
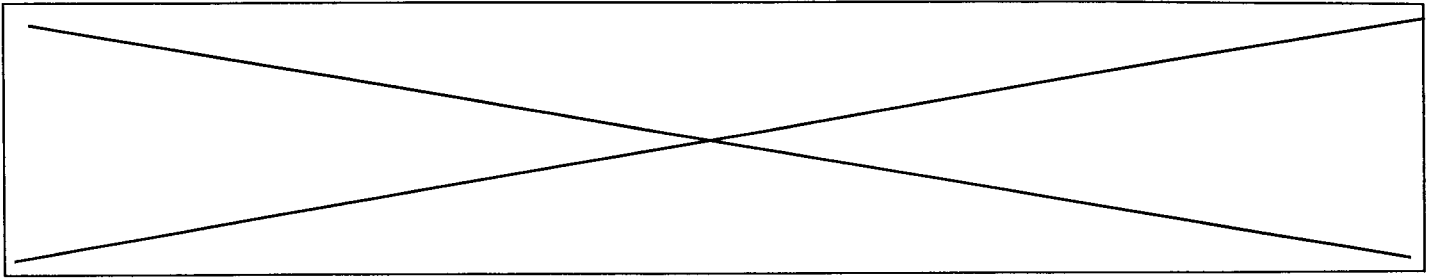


	Académie :	Session :	
	Examen ou Concours :	Série :	
	Spécialité/option :	Repère de l'épreuve :	
NE	Epreuve/sous-épreuve :		
	NOM :		
RIEN	(en majuscule suivi, s'il y a lieu, du nom d'épouse)		
	Prénoms :	N° du candidat	
ECRIRE	Né(e) le :		(le numéro est celui qui figure sur la convocation ou la liste d'appel)
DANS	Examen ou Concours :	Série* :	Si votre composition comporte plusieurs feuilles, numérotez-les et placez les intercalaires dans le bon sens.
CE	Spécialité/option :		
	Repère de l'épreuve :		
CADRE	Epreuve/sous-épreuve :		
	(Préciser, s'il y a lieu, le sujet choisi)		
	Note :	Appréciation du correcteur :	
			
	* Uniquement s'il s'agit d'un examen		

PARTIE INSTALLATIONS SANITAIRES ET THERMIQUES

CODE EPREUVE :		CONCOURS : MAITRE OUVRIER	SPECIALITE : Agencement et revêtements
SESSION 2000	SUJET	EPREUVE : Admissibilité n°2 – Option A	
Durée : 1h30	Coefficient : 2	Code sujet : 153NB00	Page :9/16



Vous avez la responsabilité d'une installation sanitaire, vous devez être capable d'identifier

- les différents réseaux
- les différents éléments
- d'effectuer un dépannage

1) identifier les différents éléments sanitaires *2,5 points*

on donne : la coupe d'un pavillon (page 12/16)
on demande : identifier les différents numéros du pavillon

1	2	3	4	5	6

2) identifier l'emplacement des différents réseaux d'évacuations *2 points*

on donne : coupe du pavillon (page 12/16)
on demande : nommer

EU= _____

EV= _____

EP= _____

Colorier de différentes couleurs ces réseaux

Couleurs

EU=

EV=

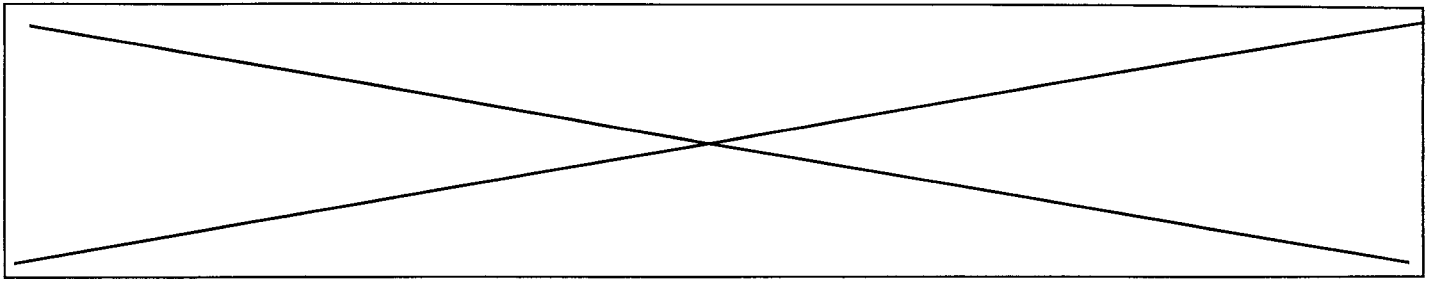
EP=

3) identifier l'emplacement des ventilations primaires *2 points*

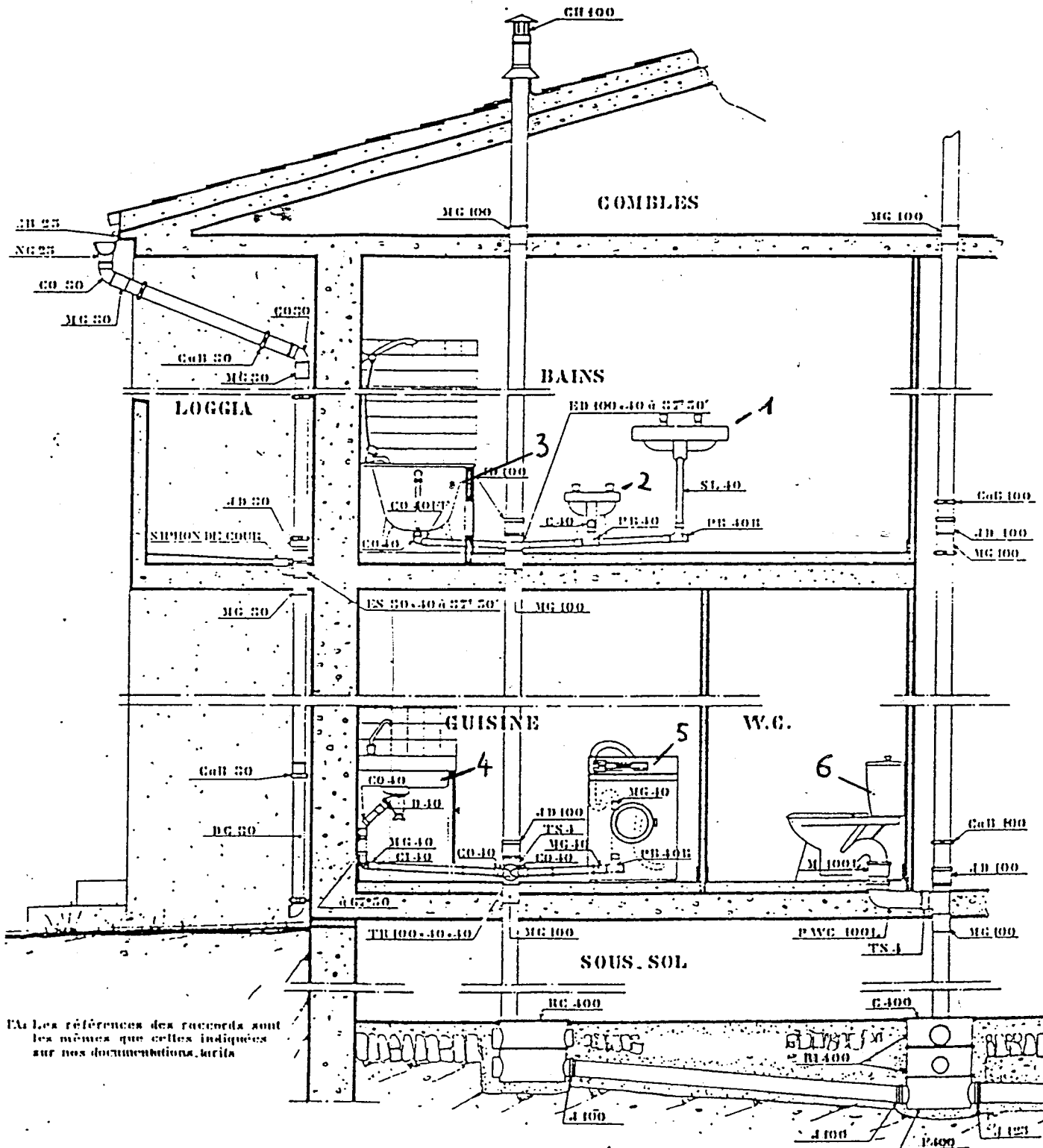
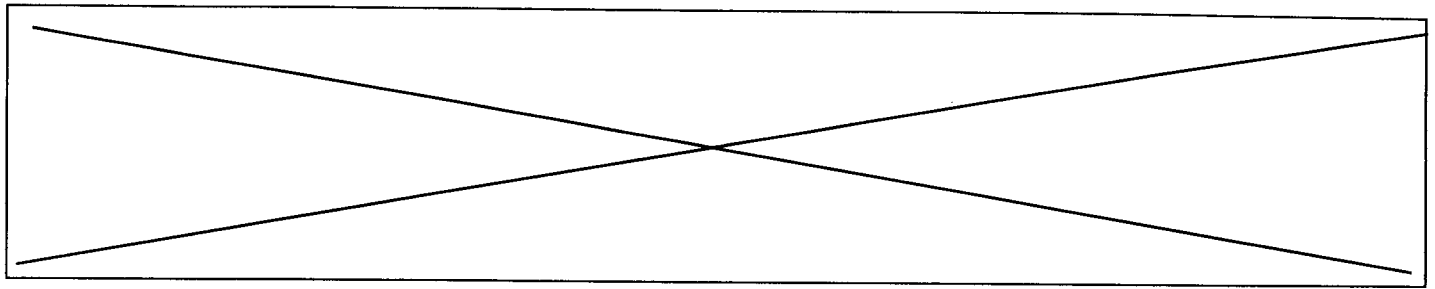
on donne : la coupe du pavillon (page 12/16)
on demande : de nommer, et de colorier sur la coupe les ventilations primaires

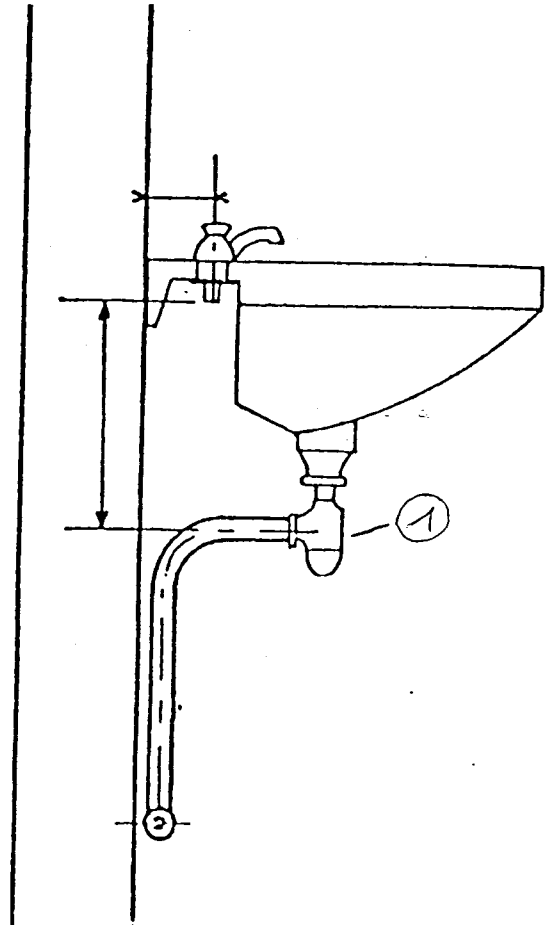
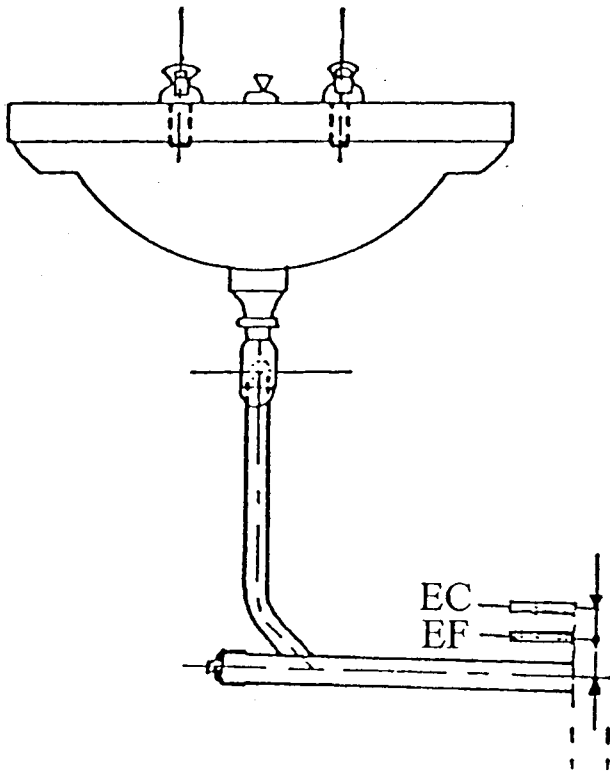
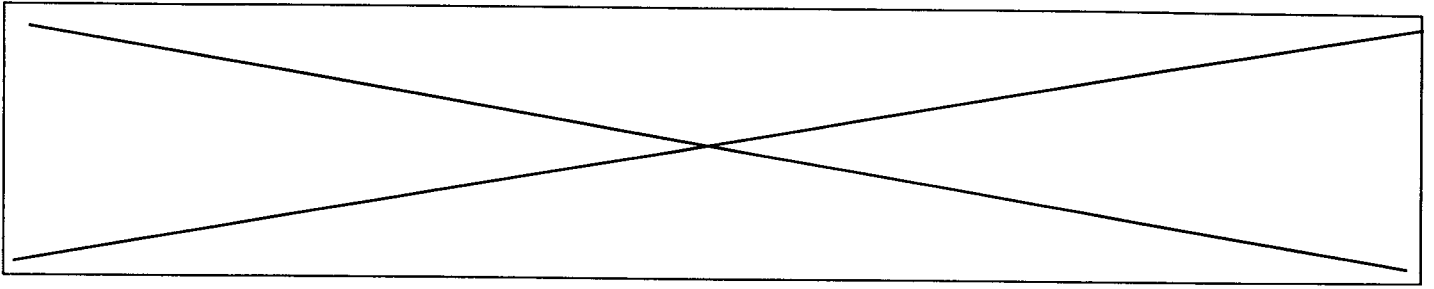
4) effectuer le schéma de raccordement d'un lavabo *1 point*

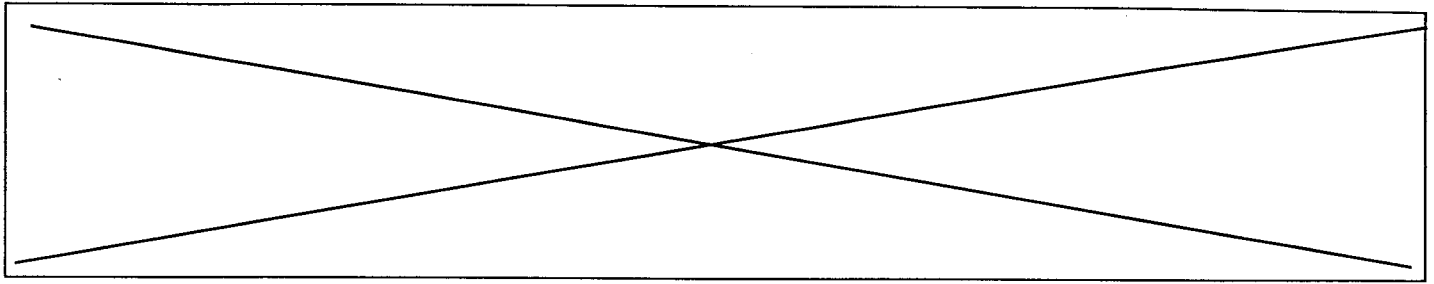
on donne : la représentation d'un lavabo (page 13/16)
on demande : de tracer l'alimentation sur la vue de face et de gauche
- eau chaude en rouge
- eau froide en bleue



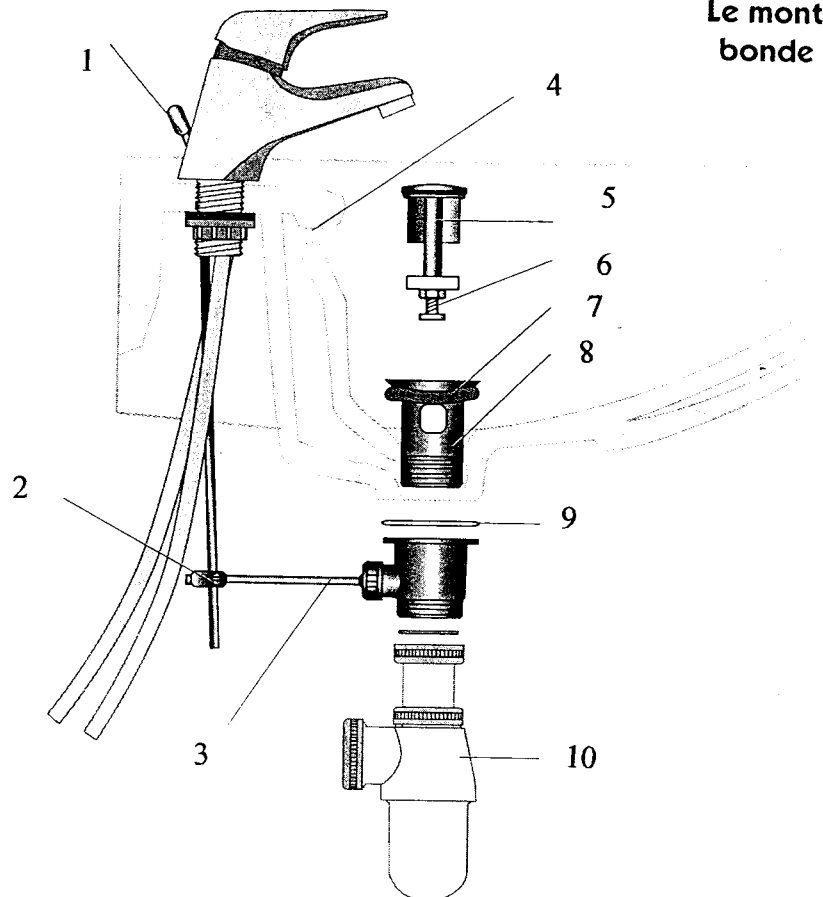
- 5) identifier et donner la fonction de l'élément numéroté 1 *0,5 point*
on donne : la représentation d'un lavabo (page 13/16)
on demande :
nom : _____
fonction :
- 6) identifier les différents éléments d'évacuation d'un lavabo *1 point*
on donne : le montage d'une bonde de lavabo (page 14/16)
on demande : nommer les différents éléments
- 7) identifier les différents éléments d'une chasse d'eau (page 15/16) *2 points*
on donne : le raccordement de la chasse d'eau
on demande : nommer les différents éléments
- 8) réalisation d'un dépannage *2 points*
on donne : document fuite par le trop plein de la chasse (page 16/16)
on demande : nommer les trois opérations que vous devez effectuer







**Le montage d'une
bonde de lavabo**



1 =

2 =

3 =

4 =

5 =

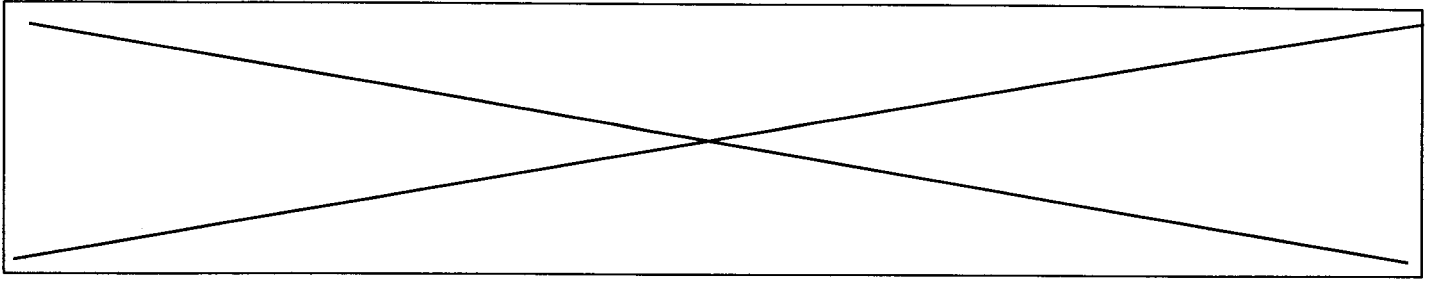
6 =

7 =

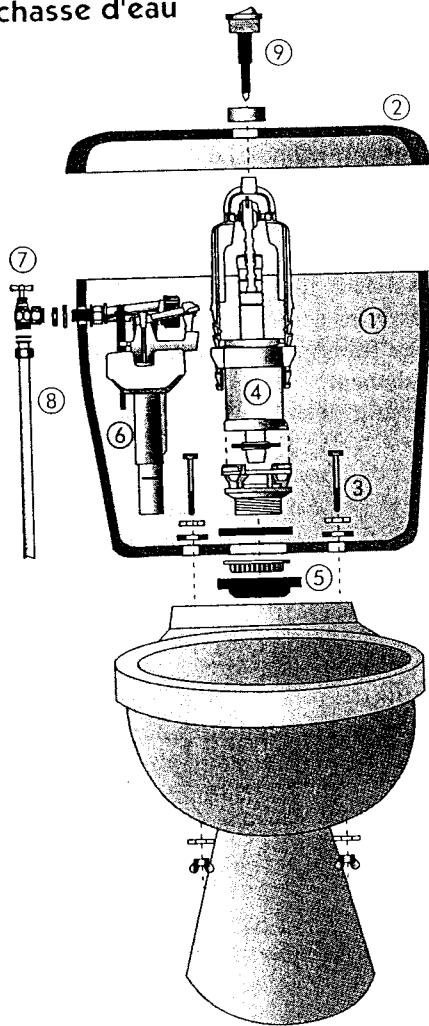
8 =

9 =

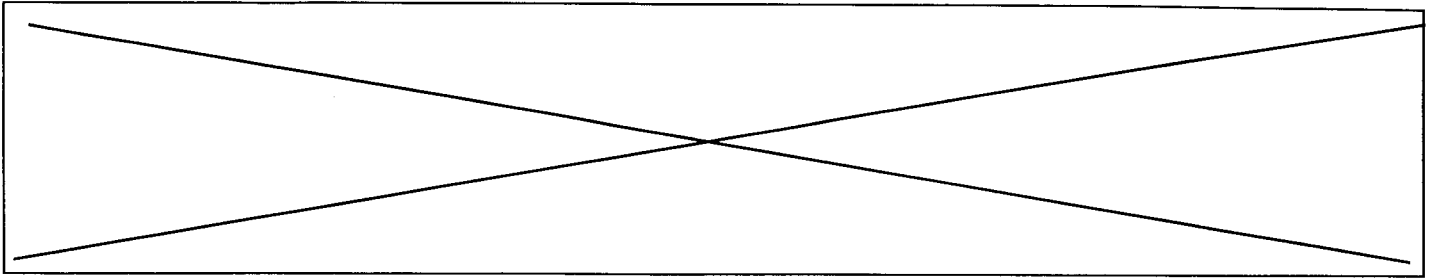
10 =



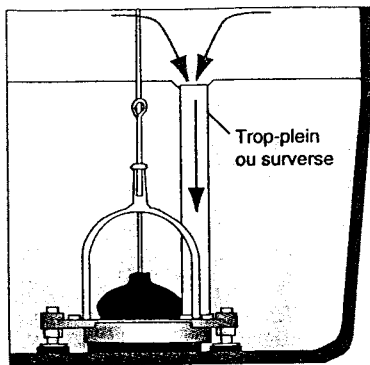
Le raccordement de la
chasse d'eau



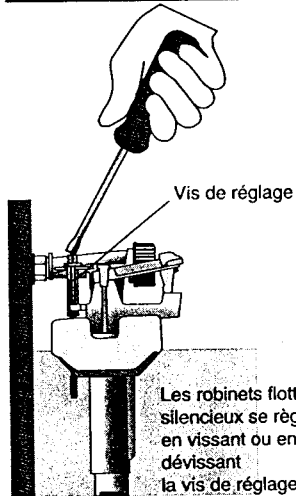
- ①
- ②
- ③
- ④
- ⑤
- ⑥
- ⑦
- ⑧
- ⑨



Fuite par le trop plein de la chasse



①



②

Les robinets flotteur silencieux se règlent en vissant ou en dévissant la vis de réglage.

③

Les fuites de la chasse d'eau

