
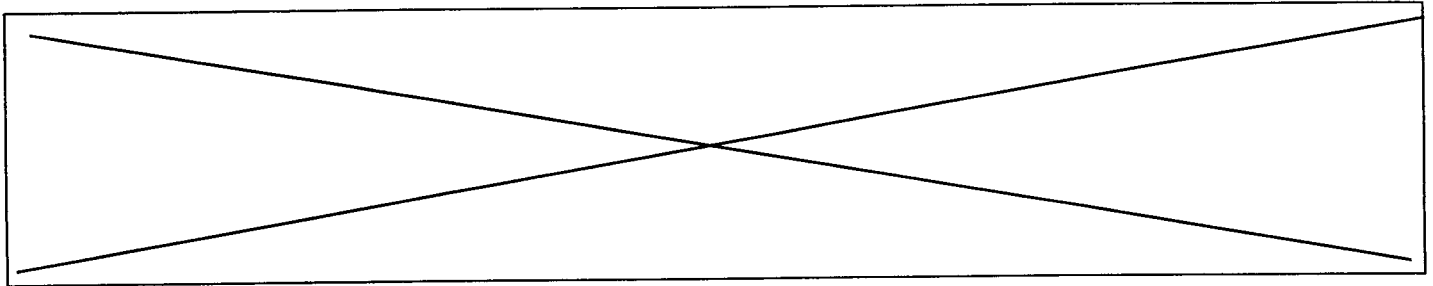


	Académie :	Session :	
	Examen ou Concours :	Série :	
	Spécialité/option :	Repère de l'épreuve :	
NE	Epreuve/sous-épreuve :		
	NOM :		
RIEN	(en majuscule suivi, s'il y a lieu, du nom d'épouse) Prénoms :	N° du candidat	
	Né(e) le :		(le numéro est celui qui figure sur la convocation ou la liste d'appel)
ECRIRE	-----		
DANS	Examen ou Concours :	Série* :	Si votre composition comporte plusieurs feuilles, numérotez-les et placez les intercalaires dans le bon sens.
	Spécialité/option :		
CE	Repère de l'épreuve :		
	Epreuve/sous-épreuve :		
CADRE	(Préciser, s'il y a lieu, le sujet choisi)		
	Note :	Appréciation du correcteur :	
			
	* Uniquement s'il s'agit d'un examen		

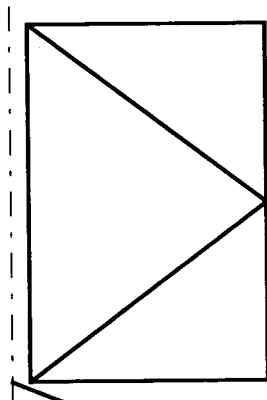
PARTIE AGENCEMENT INTERIEUR

CODE EPREUVE :		CONCOURS : MAITRE OUVRIER	SPECIALITE : Agencement et revêtements	
SESSION 2000	SUJET	EPREUVE : Admissibilité n°2 – Option A		
Durée : 1h30	Coefficient : 2	Code sujet : 153NB00	Page : 1/16	



1- LA POSE DES VITRAGES

On vous demande de remplacer le vitrage du châssis à la française ci-dessous, vous devez donc positionner correctement les cales autour de celui-ci et dans la feuillure de l'ouvrant.



Les cales seront représentées

par des petits rectangles : 

Axe de rotation

/3

2- LE TRAITEMENT DES BOIS

Contre quoi protègent les produits suivants ?

Fongicide :

Ignifuge :

Insecticide :

/3

3- LE VISSAGE

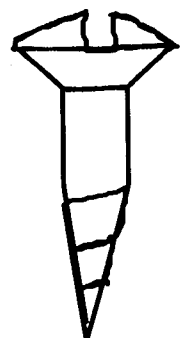
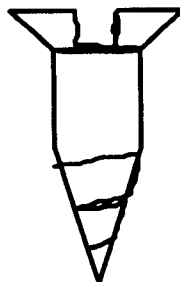
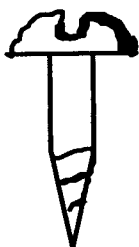
Nommez et indiquez à l'aide de deux lignes d'attache et d'une ligne de cote la longueur des vis ci-dessous.

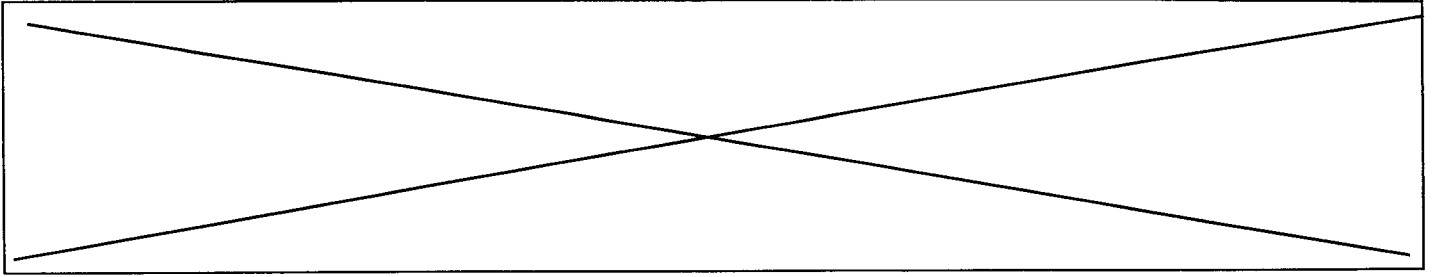
Vis

Vis

Vis

/3





4- LE COLLAGE D'UN STRATIFIÉ SUR UN PANNEAU DE PARTICULES

Avec de la colle contact néoprène, vous devez plaquer une feuille de stratifié sur un panneau support. Indiquez dans les rectangles ci-dessous les différentes opérations nécessaires au bon déroulement de la réalisation.

Diagram showing a vertical sequence of eight empty rectangular boxes, connected by a central vertical line, intended for writing the steps of the process.

