
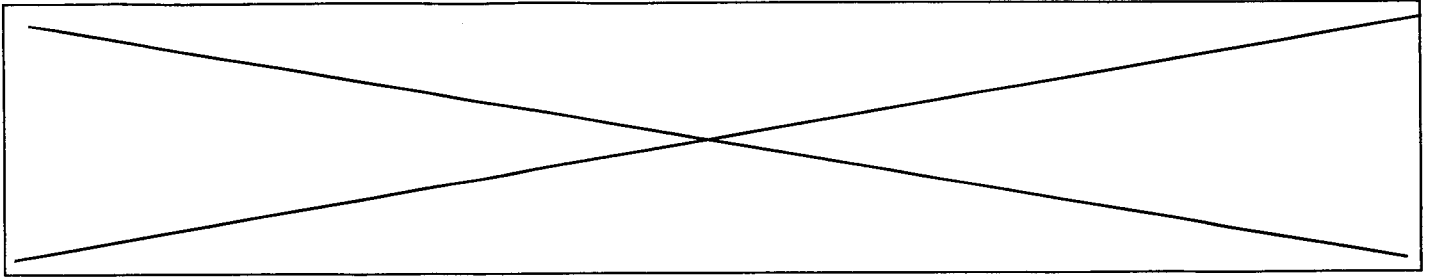


	Académie :	Session :	
	Examen ou Concours :	Série :	
	Spécialité/option :	Repère de l'épreuve :	
NE	Epreuve/sous-épreuve :		
	NOM :		
RIEN	(en majuscule suivi, s'il y a lieu, du nom d'épouse) Prénoms :	N° du candidat	
	Né(e) le :		(le numéro est celui qui figure sur la convocation ou la liste d'appel)
ECRIRE			
DANS	Examen ou Concours :	Série* :	Si votre composition comporte plusieurs feuilles, numérotez-les et placez les intercalaires dans le bon sens.
	Spécialité/option :		
CE	Repère de l'épreuve :		
	Epreuve/sous-épreuve :		
CADRE	(Préciser, s'il y a lieu, le sujet choisi)		
	Note :	Appréciation du correcteur :	
			
	* Uniquement s'il s'agit d'un examen		

## PARTIE HYGIENE ET SECURITE

CODE EPREUVE :		CONCOURS OUVRIER PROFESSIONNEL	SPECIALITE : Equipements bureautiques et audiovisuels	
SESSION 2000	SUJET	EPREUVE : Admissibilité n°1		
Durée : 2h	Coefficient : 3	Code sujet : 146NB00	Page : 16/18	



1. Lors d'opérations de maintenance vous travaillez souvent sur écran.

1.1 Indiquer les risques encourus par un travail prolongé sur écran. 2 points

1.2 Indiquer, pour chaque risque identifié, les règles à respecter afin de préserver la santé de l'opérateur. 3 points

*Vous devez présenter la réponse à cette question sous forme de tableau.*

2. Analyser le document n°1 en annexe.

2.1 Indiquer la meilleure situation de la source lumineuse. 1 point

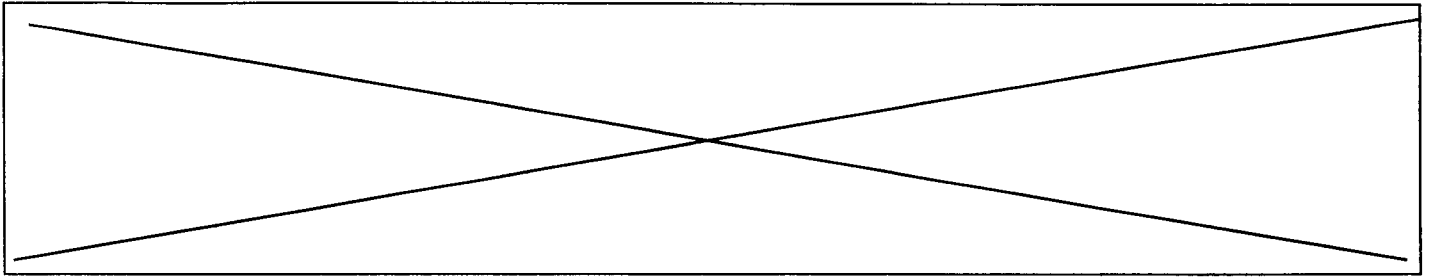
2.2 Justifier votre réponse en utilisant les informations fournies par le document. 2 points

3. Indiquer et justifier les règles de sécurité à respecter lors d'une intervention de maintenance sur câblage en faux plafond. 3 points

4. Le document n°2 en annexe présente une personne qui adopte une mauvaise position.

Décrire la conséquence sur l'organisme de cette position, si elle est répétée. 2 points

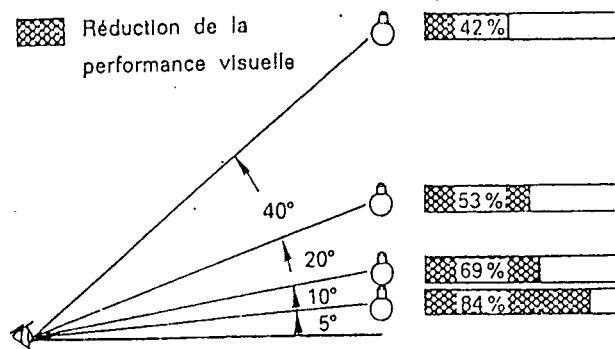
5. Expliquer la signification du niveau d'habilitation BOV. 2 points



## ANNEXE

- Document n°1 -

Influence d'une source lumineuse sur la performance visuelle



- Document n°2 -

