

	Académie :	Session :
	Examen ou Concours :	Série :
	Spécialité/option :	Repère de l'épreuve :
NE	Épreuve/sous-épreuve :	
	NOM :	
RIEN	(en majuscule suivi, s'il y a lieu, du nom d'épouse) Prénoms :	N° du candidat <input style="width: 100px; height: 20px;" type="text"/>
	Né(e) le :	(le numéro est celui qui figure sur la convocation ou la liste d'appel)
ECRIRE		
DANS	Examen ou Concours :	Série* :
	Spécialité/option :	
CE	Repère de l'épreuve :	
	Épreuve/sous-épreuve :	
CADRE	(Préciser, s'il y a lieu, le sujet choisi)	
	Note : 20	Appréciation du correcteur :
	* Uniquement s'il s'agit d'un examen	

*Si votre composition
comporte plusieurs
feuilles, numérotez-les
et placez les intercalaires
dans le bon sens.*

1 - Qu'est ce qu'une eau dure ? (4 points).....

.....

.....

Citez les inconvénients de cette dernière : (5 points)

.....

.....

.....

.....

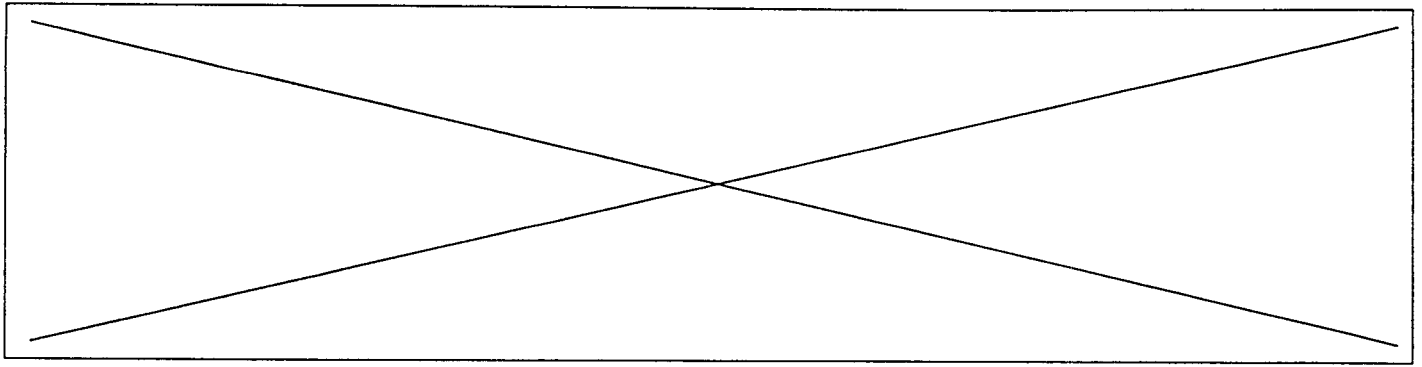
Comment peut-on y remédier : (8 points)

.....

.....

.....

ACADÉMIE DE RENNES		CONCOURS : OUVRIERS PROFESSIONNELS	SPÉCIALITÉ : LINGERIE	
SESSION 1998	SUJET	ÉPREUVE : D'ADMISSIBILITÉ N°1		
Durée : 2h00	Coefficient : 3	Code sujet : 011998	Page : 1/4	



2 - Quels sont les textiles utilisés pour le linge de collectivité ? Pourquoi ? (3 points)

.....
.....
.....
.....

3 - Donnez les différents symboles de code d'entretien et expliquez leurs fonctions : (5 points)

.....
.....
.....
.....
.....

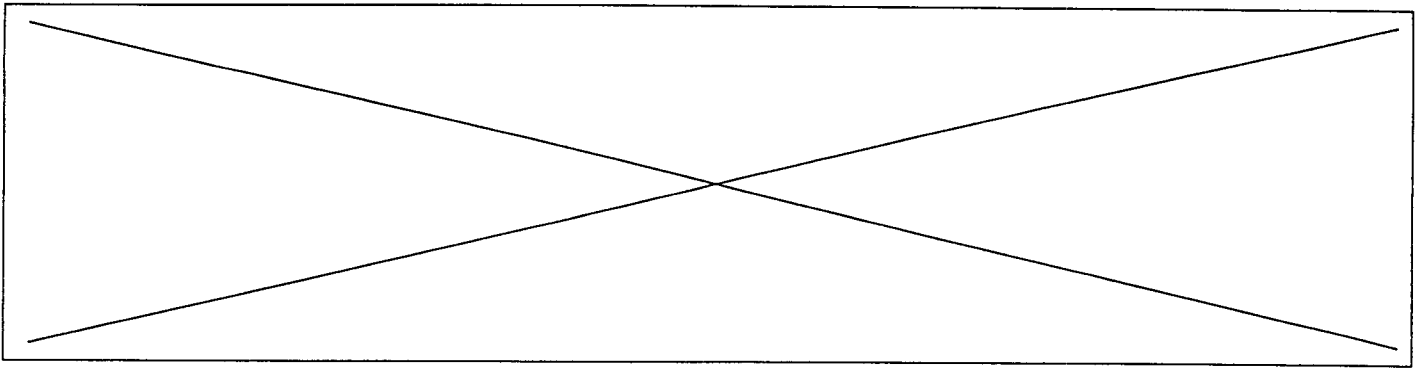
Précisez les symboles correspondant aux articles suivants : (12 points)

- coton :


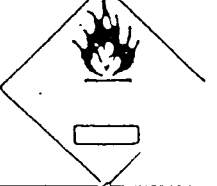
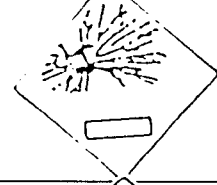
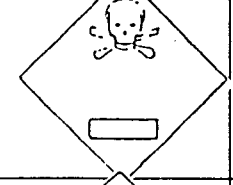

- laine :

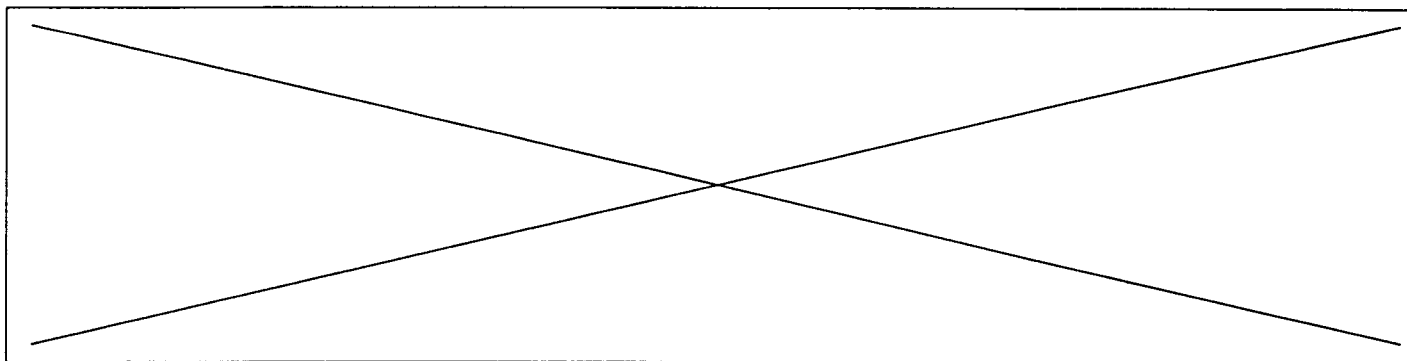
- acétate de cellulose :

- polyester :



4 - Identifiez les symboles suivants et précisez les précautions d'emploi : (15 points)

SYMBOLES	IDENTIFICATION	PRECAUTIONS D'EMPLOI
		
		
		
		
		



5 - On vous apporte une tenue de cuisine en coton tachée de sang et de sauce.

On vous demande de :

- donner l'origine de la matière textile : (1 point)

.....

- donner la classification de ces taches : (4 points).....

.....

- donner un mode d'élimination pour ces dernières : (3 points).....

.....